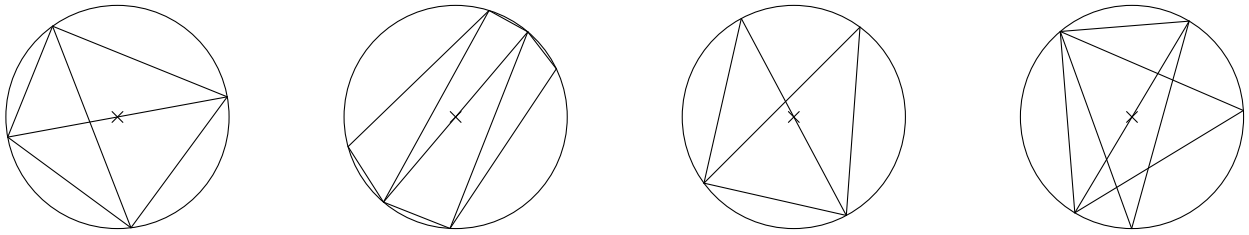
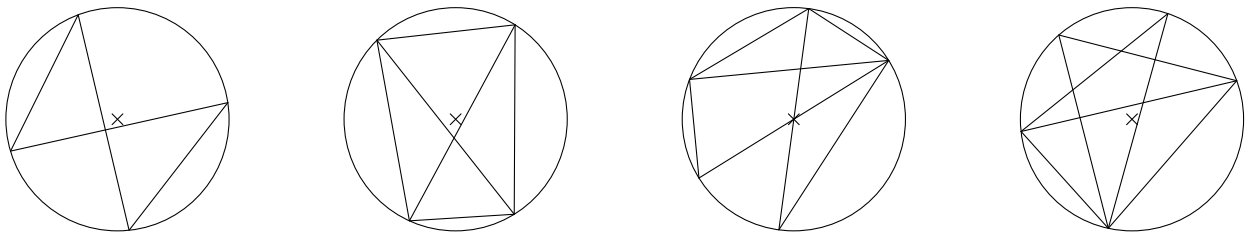


Exercice GMO-AC-11

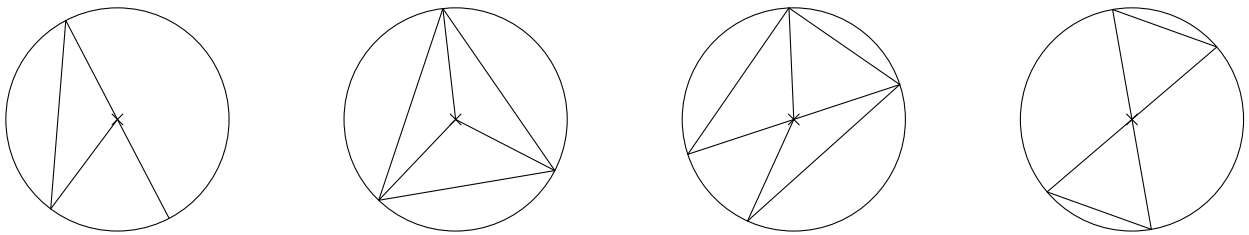
a) Dans chaque figure ci-dessous, indique tous les angles qui sont droits. Justifie tes réponses.



b) Dans chaque figure ci-dessous, indique tous les angles inscrits qui sont isométriques. Justifie tes réponses.



c) Dans chaque figure ci-dessous, indique tous les angles qui ont un rapport 2 ou 0.5 entre eux. Justifie tes réponses.



d) Dans chaque figure ci-dessous, calcule l'angle indiqué par un point d'interrogation. Chaque figure est composée d'un polygone régulier dont le centre est dessiné.

