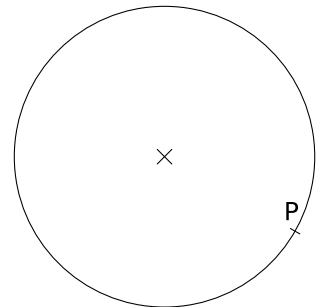
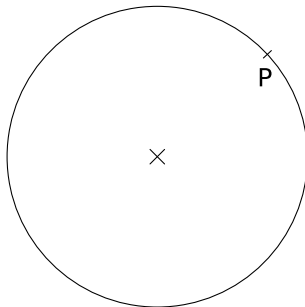
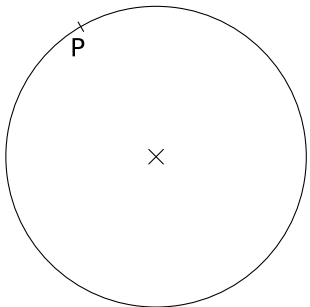
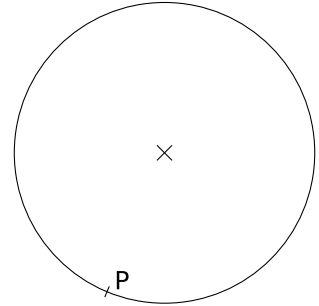
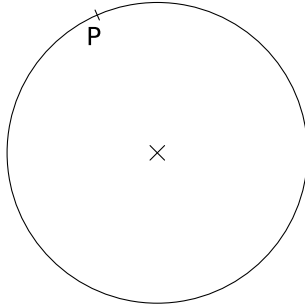
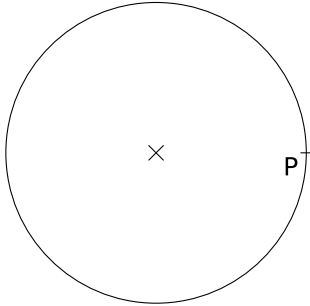


Exercice GMO-AC-16

a) Dans chacune des six figures ci-dessous, dessine une droite tangente au cercle en P. Fais cela par construction géométrique.



b) A l'aide d'une construction géométrique, dessine un cercle de 3 cm de diamètre qui est tangent au cercle c en P. Fais cela pour chacune des deux figures ci-dessous.

