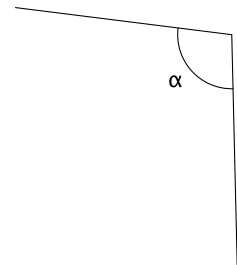
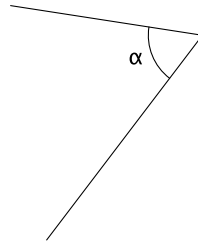
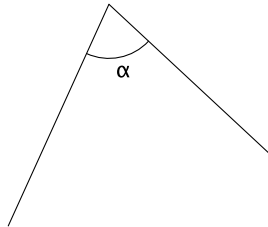
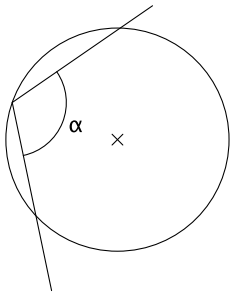
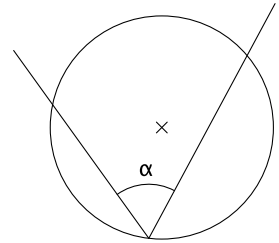
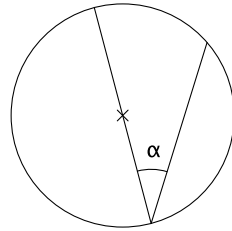
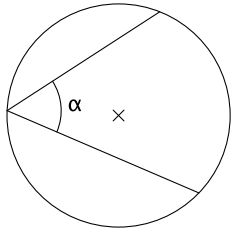
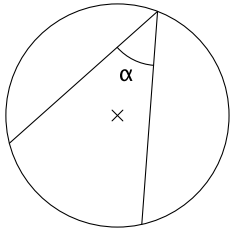


Exercice GMO-AC-10

a) Dans chaque figure ci-dessous, dessine un angle β qui est le double de l'angle α . Pour faire cela, utilise la relation qu'il y a entre l'angle au centre et l'angle inscrit dans un cercle. Tu as ainsi besoin du compas et de la règle uniquement.



b) Dans chaque figure ci-dessous, dessine un angle β qui est la moitié de l'angle α . Pour faire cela, utilise la relation qu'il y a entre l'angle au centre et l'angle inscrit dans un cercle. Tu as ainsi besoin du compas et de la règle uniquement.

