


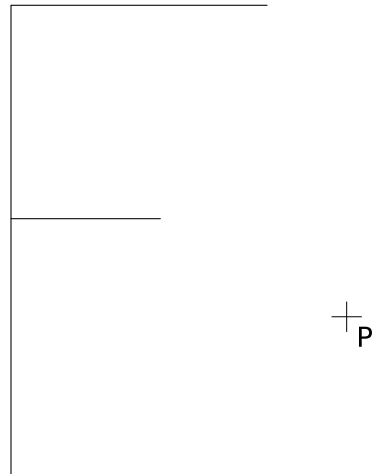
Exercice GMO-IH-29

A l'aide d'une construction géométrique, construis l'image des figures ci-dessous, selon une homothétie de centre P et de rapport k donnés.

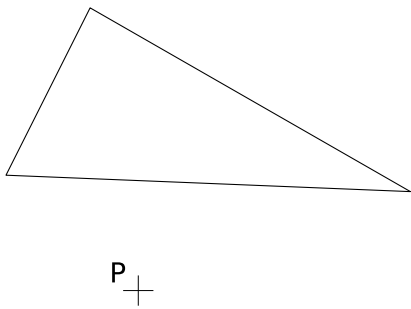
$k=-2$



$k=-0.5$



$k=-1.5$



$k=-1$

